

4*

Natursti



4H Norge

Natursti


Post nr.

Hva eter røyskatten?

1 - Mark og biller

X - Smågnagere

2 - Bær og sopp



Natursti

Post nr.

Hvor lang drektighetstid har en hare?

1 - 2 måneder

X - 7 måneder

2 - 7 uker



Natursti


Post nr.

Hvor mange unger får en røyskatt normalt?

1 - 2-4 unger

X - 5-8 unger

2 - 1 unge



Natursti

Post nr.

Hvor tung blir et voksent lemen?

1 - ca. 42-45 g

X - ca. 50-60 g

2 - ca. 80-100 g



Natursti

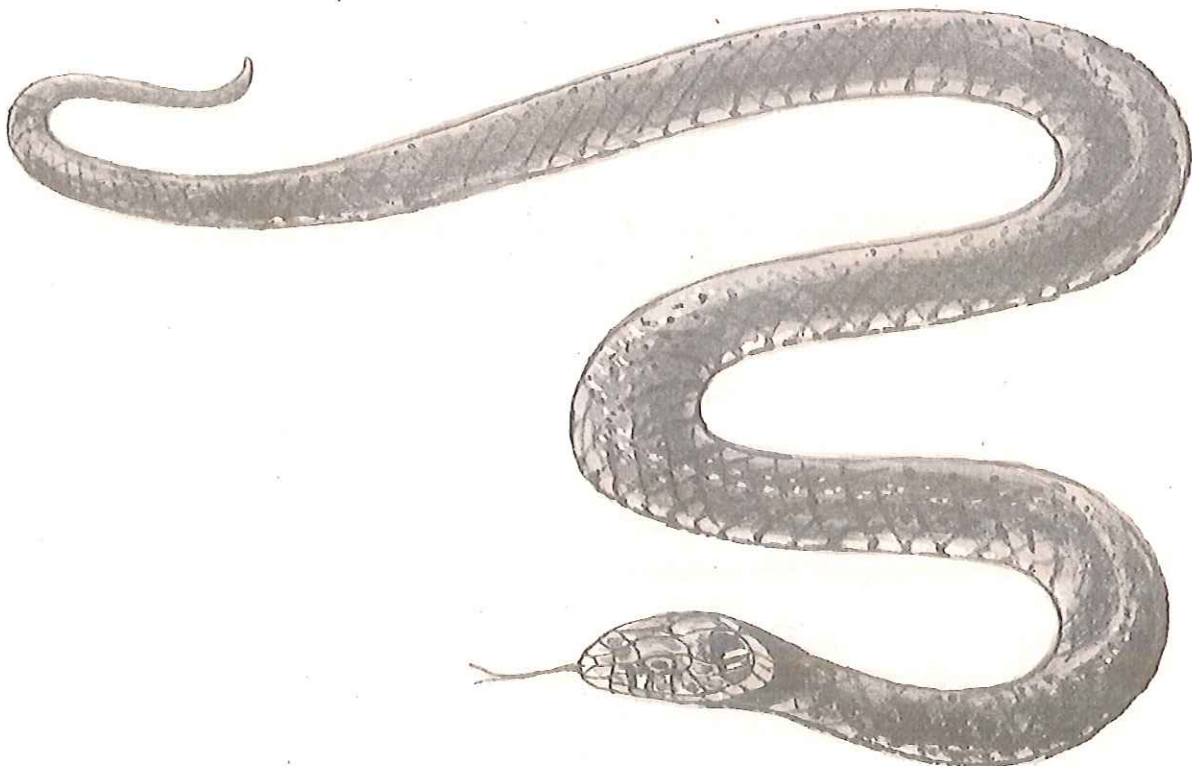
Post nr.

Hvor lang pleier en buorm å bli?

1 - Opptil 60 cm

X - Opptil 100 cm

2 - Opptil 150 cm



Natursti

Post nr.

Hvor mange kull med unger kan et ekorn få på ett år?

1 - 1 kull

X - 2-3 kull

2 - 4-5 kull



Natursti

Post nr.

Hva er urea?

1 - Gresk skogsgudinne

X - Gjødelslag

2 - Avfallsstoff i papirindustrien



Natursti

Post nr.

Hva menes med karakterplante i skogbrukssammenheng?

1 - Plante med god kvalitet

X - Plante som krever et bestemt voksested

2 - Plante som gir deg god karakter hvis du kjenner den



Natursti


Post nr.

Tuene til den røde skogmauren kan bli opp til mannshøye og er iøyenfallende ute i skogen. Hvor mange beboere kan en slik tue ha på det meste?

1 - 10 000 individer

X - 70 000 individer

2 - Over 100 000 individer

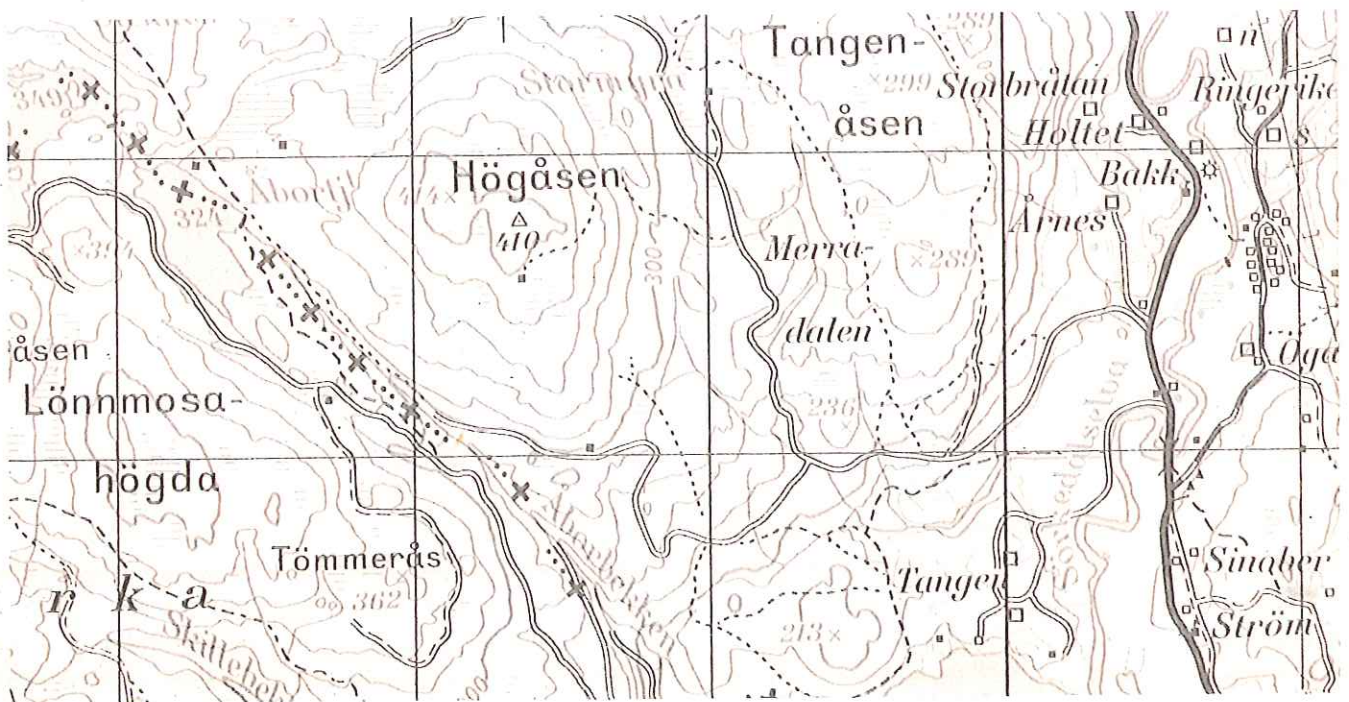


Natursti

Post nr.

Hva vil det si at et kart har målestokk 1:50 000?

- 1 - At 1 cm på kartet er 50 000 m i terrenget
- X - At 1 cm på kartet er 500 m i terrenget
- 2 - At 1 cm på kartet er 5000 m i terrenget



Natursti


Post nr.

Hva er tømmer som går under betegnelsen skur?

1 - Tømmer som brukes i industrien til papir

X - Vraktømmer

2 - Tømmer som skjæres til materialer



Natursti

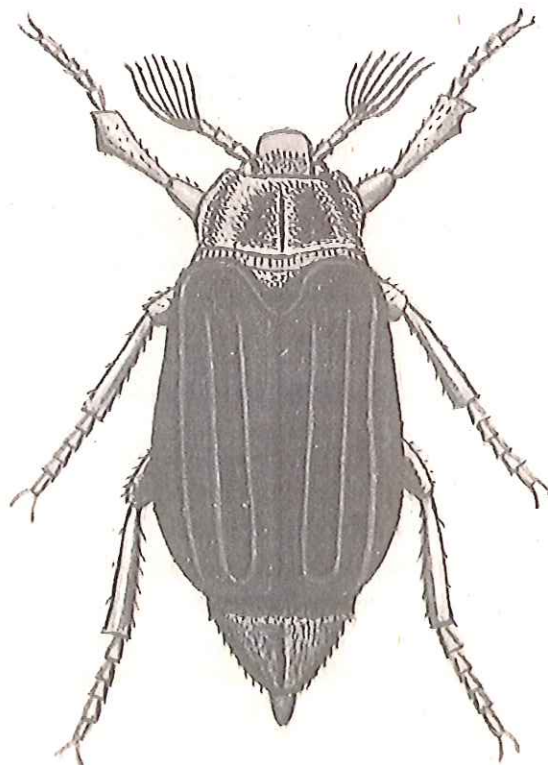
Post nr.

Hvilket insekt er dette?

1 - Tømmermann

X - Oldenborre

2 - Furusnutebille



Natursti

Post nr.

Hvor stort areal produktiv skog har vi i Norge?


1 - 65 millioner dekar (mål)

X - 300 millioner dekar (mål)

2 - 4 millioner dekar (mål)



Natursti

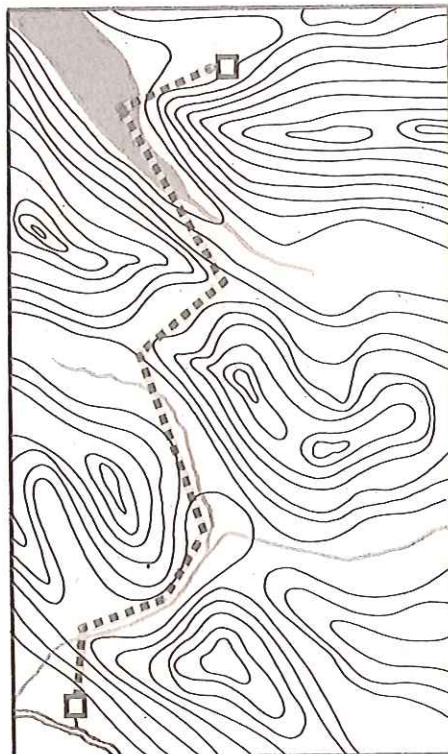


Hva er en ekvidistanse?

1 - Høydeforskjellen mellom to høydekurver på et kart

X - Avstanden mellom to punkter i en skog

2 - Avstanden mellom to poster i et O-løp



Natursti

Post nr.

Hos de store villevende hjortedyra våre har hanndyra gevir. Hos hvilken art får også hunndyra gevir?

1 - Hjort

X - Rein

2 - Rådyr

